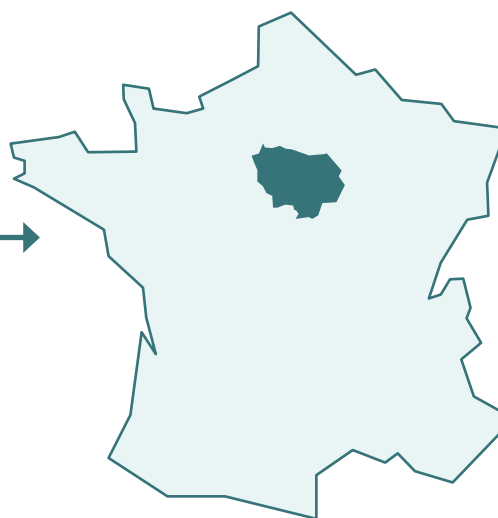


3 Où se trouvent le musée et le Domaine national ?

Le **musée d'Archéologie nationale** se trouve
dans un château
dans la ville de **Saint-Germain-en-Laye**
dans le département des **Yvelines** (78)
dans la région **Ile-de-France** (en bleu sur la carte).



Le **Domaine national** (le parc, les jardins, les bassins)
est à côté du château.

ACTIVITÉ

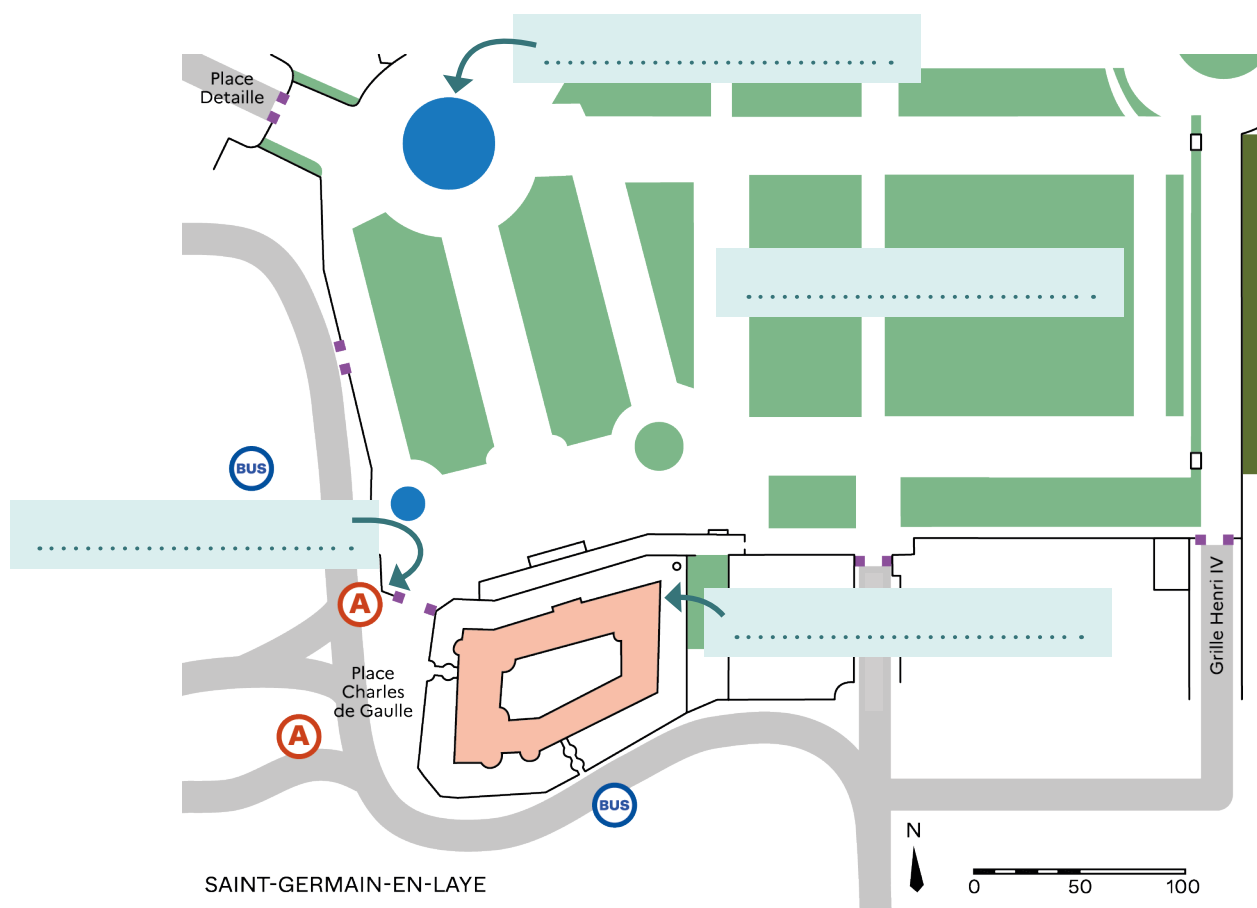
Remplacez les noms dans les cadres :

le château-musée

le Domaine national

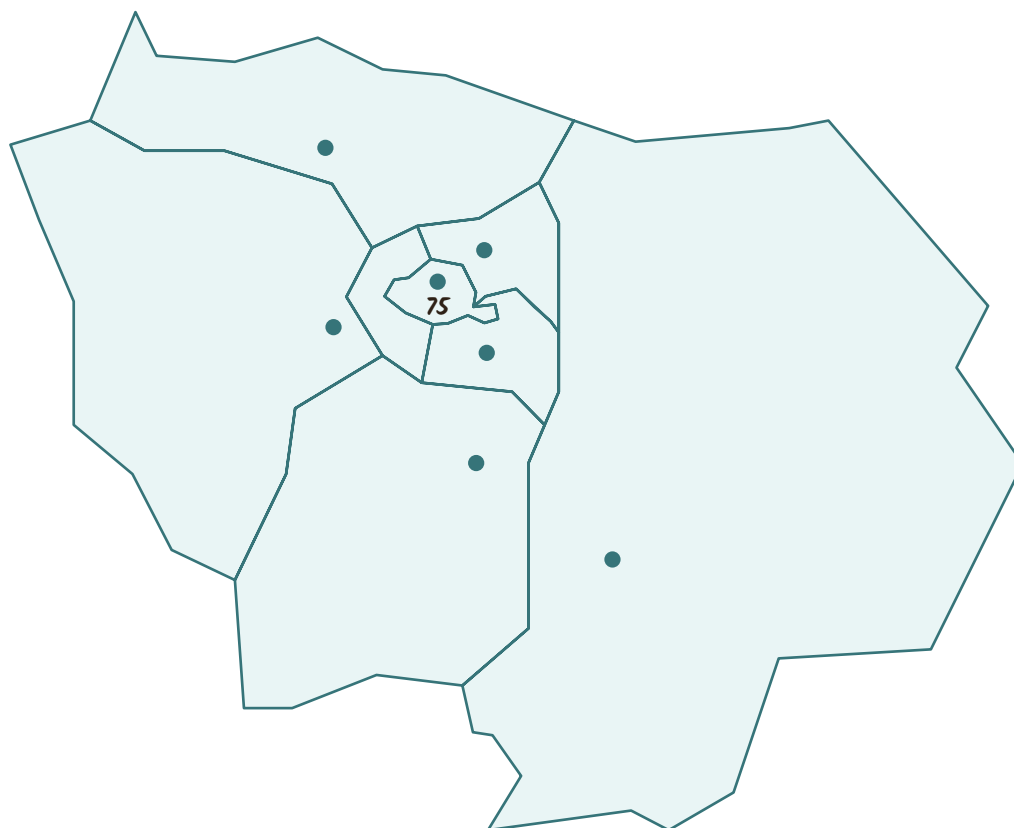
la station du RER A

le grand bassin



ACTIVITÉ

Reliez le nom de chaque département de l'Ile-de-France à son numéro et à sa préfecture, et **placez** les numéros des départements sur la carte comme dans l'exemple.



Département

Seine-Saint-Denis



Paris



Val-de-Marne



Seine-et-Marne



Yvelines



Hauts-de-Seine



Val-d'Oise



Essonne



Numéro

☐ 75 ☐

☐ 77 ☐

☐ 78 ☐

☐ 91 ☐

☐ 92 ☐

☐ 93 ☐

☐ 94 ☐

☐ 95 ☐

Préfecture

☐ Nanterre

☐ Évry

☐ Melun

☒ Paris

☐ Pontoise

☐ Versailles

☐ Bobigny

☐ Créteil

Indiquez sur la carte le lieu où vous vivez (si vous êtes francilien ou francilienne) par une croix : **X**